



**ATIVIDADES COMPLEMENTARES DE ESTUDO – COVID 19**

**ROTEIRO DE ATIVIDADES COMPLEMENTARES DE ESTUDO – COVID 19  
23º ROTEIRO**

**ESCOLA MUNICIPAL DR. VITÓRIO FRANKLIN**

**PROFESSORA: LUCI ANE FERNANDES TURMA: Sala de Recurso B - Grupo 2**

**COMPONENTES CURRICULARES: MATEMÁTICA E LATERALIDADE.**

**PERÍODO DE REALIZAÇÃO: 26 a 29 de Outubro.**

**NOME: \_\_\_\_\_**

<b>O QUE VOCÊ VAI ESTUDAR:</b>	Matemática: sistema de numeração e operações. Lateralidade: noções de direita e esquerda.
<b>PARA QUE VAMOS ESTUDAR ESSES CONTEÚDOS?</b>	Compreender a formação dos números. Resolver operações de adição com trocas. Identificar direita e esquerda no seu corpo e nas figuras.
<b>COMO VAMOS ESTUDAR OS CONTEÚDOS?</b>	Realize as atividades com atenção e capricho.

Matemática

Marque a alternativa com o resultado correto.

$69 + 38 + 242 =$

( ) 348   ( ) 415   ( ) 349   ( ) 502

$230 + 150 =$

( ) 379   ( ) 380   ( ) 256   ( ) 594

$210 + 151 + 35 =$

( ) 521   ( ) 116   ( ) 396   ( ) 496

$19 + 9 =$

( ) 25   ( ) 45   ( ) 28   ( ) 25



**SECRETARIA MUNICIPAL DE EDUCAÇÃO**

**ATIVIDADES COMPLEMENTARES DE ESTUDO – COVID 19**

1. OBSERVE A SEQUÊNCIA E AJUDE MAGALI A DESCOBRIR QUAL O ÚLTIMO NÚMERO DO QUADRO.



40	110	180					?
----	-----	-----	--	--	--	--	---

- A) ( ) 460
- B) ( ) 520
- C) ( ) 320
- D) ( ) 530

2. NO DOMINGO GARFIELD COMEU 128 HAMBÚRGUERES E NA SEGUNDA 197. QUANTOS HAMBÚRGUERES A MAIS GARFIELD COMEU NA SEGUNDA?

- A) ( ) 68
- B) ( ) 69
- C) ( ) 57
- D) ( ) 325




3. O NÚMERO FORMADO POR 5 CENTENAS + 3 DEZENAS + 8 UNIDADES É...

- A) ( ) 532
- B) ( ) 385
- C) ( ) 538
- D) ( ) 836

4. A SOMA DOS NÚMEROS QUE ESTÃO NAS ESTRELAS É FORMADA POR...


- A) ( ) 6 DEZENAS E 2 UNIDADES
- B) ( ) 6 DEZENAS E 0 UNIDADES
- C) ( ) 5 DEZENAS E 8 UNIDADES
- D) ( ) 6 DEZENAS E 4 UNIDADES



**SECRETARIA MUNICIPAL DE EDUCAÇÃO**  
**ATIVIDADES COMPLEMENTARES DE ESTUDO – COVID 19**

Lateralidade

1º) O desenho abaixo mostra Fernanda de frente para a estante de sua sala.



O que Fernanda observa à direita da televisão?

A)



C)



B)



D)



2º) Observe a figura a seguir. Ela representa Janaína na escola:



JANAÍNA VAI PARA A SALA DE LEITURA. ELA DEVE DIRIGIR PARA A

A) porta, à sua direita

B) escada, à sua direita


C) porta, à sua esquerda

D) escada, à sua esquerda



**3 °)Direta ou Esquerda? Complete as seguintes frases:**

**Paula**



**Maria**

**a)Paula segura a raquete com a mão**

\_\_\_\_\_.

**b)Maria segura a raquete com a mão**

\_\_\_\_\_.

**c)Paula está com o pé \_\_\_\_\_ no chão.**

**d)Maria está com o pé \_\_\_\_\_ no chão.**